


# L'étude des PMA, l'exemple de Madagascar.



# **Une classe de CP à Madagascar (film France TV)**

**<http://education.francetv.fr/videos/l-ecole-a-madagascar-reportage-en-cp-v108442>**

# Quelles sont les difficultés auxquelles est confronté Madagascar ?

## Doc 1 : Tableau statistique comparatif

<b>Indicateurs</b>	<b>Etats-Unis</b>	<b>Afrique du Sud</b>	<b>Madagascar</b>
<b>Indice de développement humain (IDH) en 2011</b>	<b>0.934</b>	<b>0.621</b>	<b>0,48</b>
<b>PIB/hab (PPA en \$ en 2010)</b>	<b>47 283 \$</b>	<b>7 157 \$</b>	<b>391 \$</b>
<b>Espérance de vie (2007)</b>	<b>78 ans</b>	<b>42,4 ans</b>	<b>62,1 ans</b>
<b>Taux d'alphabétisation (2011)</b>	<b>99,0%</b>	<b>88,0%</b>	<b>70,1%</b>
<b>Taux d'urbanisation (2011)</b>	<b>82,4%</b>	<b>62%</b>	<b>32,6%</b>

Source : PNUD

# Quelles sont les difficultés auxquelles est confronté Madagascar ?

## Doc 2 : Les 2/3 du pays menacés par l'invasion du criquet d'ici septembre

En l'état actuel des choses, près de la moitié du pays sont infestés par des criquets qui risquent de dévorer les plantations et les productions alimentaires et cette situation menace les 60% de la production rizicole malgache ainsi que l'essentiel de la végétation verte qui sert habituellement de pâturage.


Jusqu'en juin prochain, le budget nécessaire pour la FAO (instances internationales) et le ministère de l'agriculture malgache, en urgence, est évalué à 22 millions de dollars pour lutter contre l'invasion de ces criquets. Une campagne nationale incluant les approvisionnements en insecticide et les opérations aériennes de prospection et de lutte, devra par la suite s'étaler pendant trois ans, nécessitant un budget supplémentaire de 19 millions de dollars financé en partie par les instances internationales. [...]

Source : Afriqinfos, 27 mars 2013

Les criquets qui ravagent les cultures malgaches



# Quelles sont les difficultés auxquelles est confronté Madagascar ?



## Doc 3 : Caricature du pouvoir malgache

Source : L'Express de Madagascar

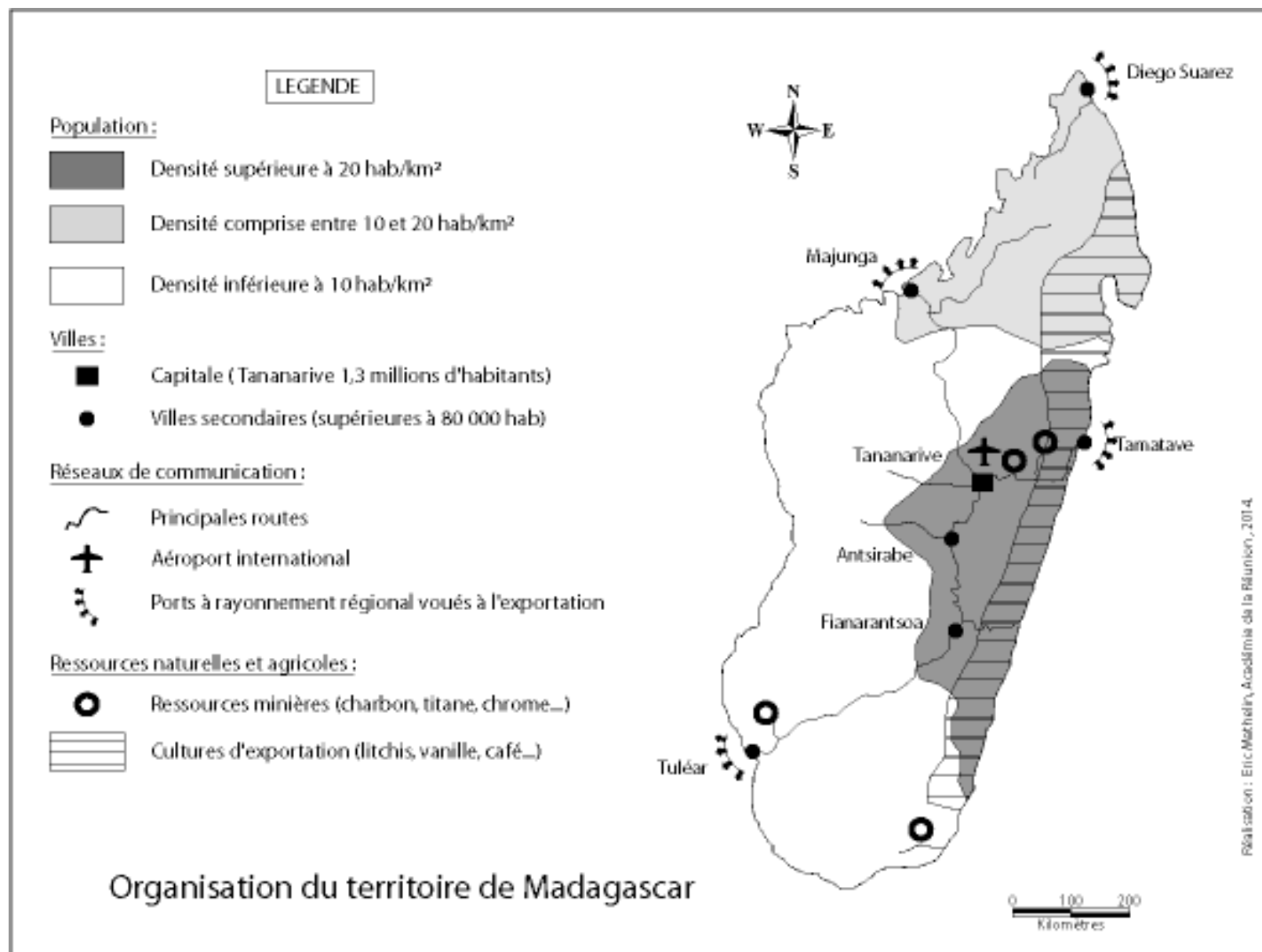
# Quelles sont les difficultés auxquelles est confronté Madagascar ?

## Doc 4 : L'élection présidentielle à Madagascar déjà contestée.

Madagascar était suspendue au verdict de la Cour électorale spéciale (CES) qui a annoncé vendredi 17 janvier que Hery Rajaonarimampianina, soutenu par l'homme fort du régime de transition, Andry Rajoelina, était élu président de Madagascar, après examen des recours déposés par son adversaire. Mais le candidat battu, Jean-Louis Robinson, n'a pas tardé à contester cette victoire. Jean-Louis Robinson, le candidat adoubé par l'ancien président Marc Ravalomanana, renversé en 2009 et en exil en Afrique du Sud, a, lui, remporté 46,51 % des voix, selon le décompte confirmé par la CES. Il y a eu environ quatre millions de votants pour près de huit millions d'inscrits. Cette élection est censée sortir Madagascar de la crise politique déclenchée en 2009. Depuis près de cinq ans, ce dernier était le président d'un régime non élu. Ni M. Ravalomanana, ni M. Rajoelina n'ont pu se présenter à la présidentielle, sous la pression de la communauté internationale qui craignait des troubles. Les défis qui attendent le nouveau président sont donc immenses, à commencer par la stabilisation politique, clé d'un redémarrage du tourisme (15 % du PIB actuellement) et de la concrétisation de projets de prospection pétrolière et minière. Madagascar, qui avait connu une croissance enviable sous l'ère Ravalomanana – avant la crise financière mondiale – a fait marche arrière dans de nombreux domaines.

Source : Le Monde, 17/01/2014

# Quelles sont les difficultés auxquelles est confronté Madagascar ?



## Doc 5 : L'organisation du territoire malgache

# Quelles sont les difficultés auxquelles est confronté Madagascar ?

## **Doc 6 : L'évolution de la population malgache (1960-2010)**

Source : Institut national de la statistique de Madagascar

<b>Années</b>	<b>Population en millions</b>
<b>1960</b>	<b>5,1</b>
<b>1970</b>	<b>6,5</b>
<b>1980</b>	<b>8,6</b>
<b>1990</b>	<b>11,2</b>
<b>2000</b>	<b>15,3</b>
<b>2010</b>	<b>20,7</b>



# Quelles sont les difficultés auxquelles est confronté Madagascar ?



**Doc 7 : La culture du riz sur  
les plateaux arrosés (Lac d'Alaotra)**

Source : ac-Réunion, SVT



**Doc 8 : L'élevage dans les plaines arides  
du Sud**

Source : <http://www.mpl.ird.fr/>

# Quelles sont les perspectives de Madagascar au sein de la mondialisation ?

## Doc 9 : Madagascar, soumis aux investissements étrangers.

Depuis l'indépendance, la France a toujours été le premier investisseur à Madagascar. Jusqu'en 2007 où le Canada l'a détrônée. [...] En troisième place se trouve l'île Maurice. Cette tendance est due à une ouverture progressive de Madagascar à tous les investisseurs depuis l'arrivée au pouvoir de Marc Ravalomanana en 2002. La France n'ayant plus l'exclusivité des opportunités économiques dans l'île.

En outre, cette tendance devrait continuer car la Corée du Sud et la Chine sont de plus en plus présentes à Madagascar notamment dans la recherche pétrolière, l'agriculture et les travaux publics. D'ailleurs, sur ce point, depuis 2005 la Chine (Chine Populaire et Hong Kong) est devenue le premier partenaire économique du pays, si l'on se réfère aux importations et exportations, place détenue par la France depuis l'indépendance. [...]

En décembre 2008, la multinationale coréenne Daewoo a fait l'acquisition (en leasing, pour 99 ans) d'1,3 million d'hectares (environ 1/30 de la surface agricole de la France) pour y faire cultiver, par une main-d'œuvre sud-africaine, céréales et huile de palme à destination de Séoul. [...]

Source : <http://www.maep.gov.mg/>

# Quelles sont les perspectives de Madagascar au sein de la mondialisation ?

MADAGASCAR TOURISM EXPEDITIONS  
Nature & Discovery

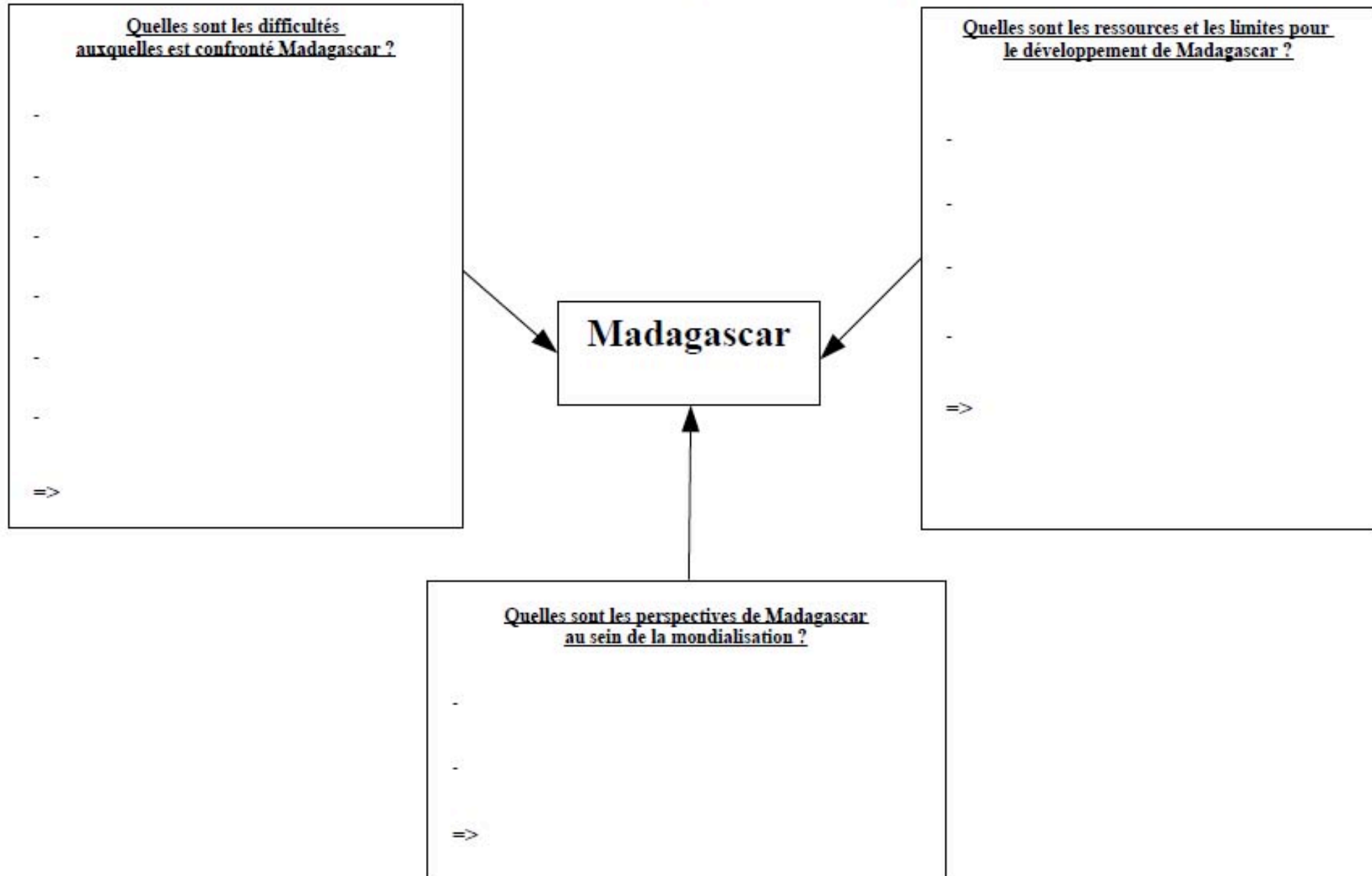
Agence de voyage - Tour operator  
[www.madagascar-tourism-expeditions.com](http://www.madagascar-tourism-expeditions.com)

Lot IBF 35 Ambatomena – Antananarivo 101 - Madagascar  
Tél. : (261) 22 365 15 | (261) 32 02 278 94 | (261) 33 14 810 36 | (261) 34 14 404 24

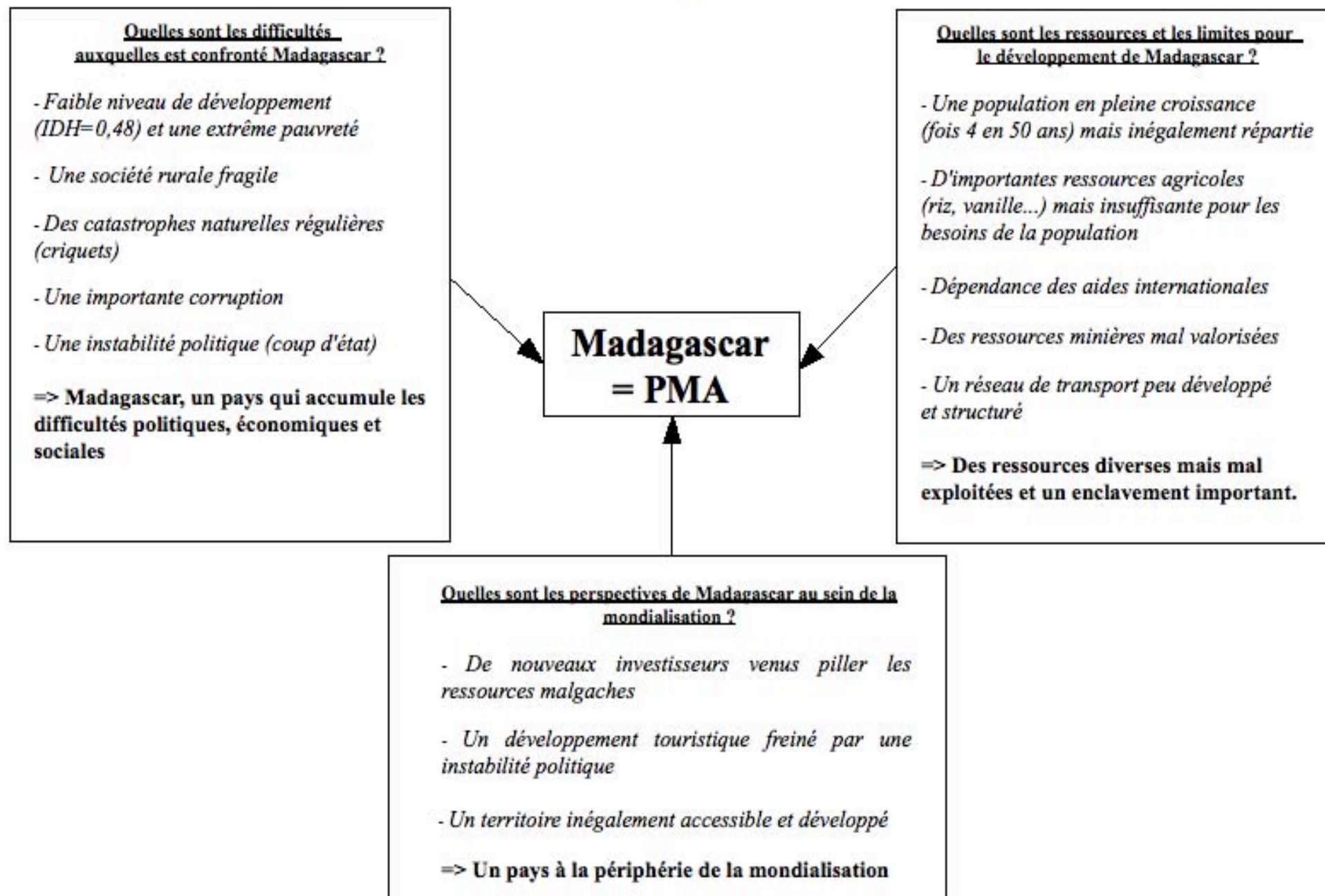
The advertisement features a collage of images: baobab trees, lemurs, a beach, a person in a boat, and a close-up of a lemur. The logo includes a map of Madagascar and a lemur. The background is a mix of green and blue with silhouettes of baobabs and a small airplane.

Doc 10 : Publicité d'un tour-opérateur malgache

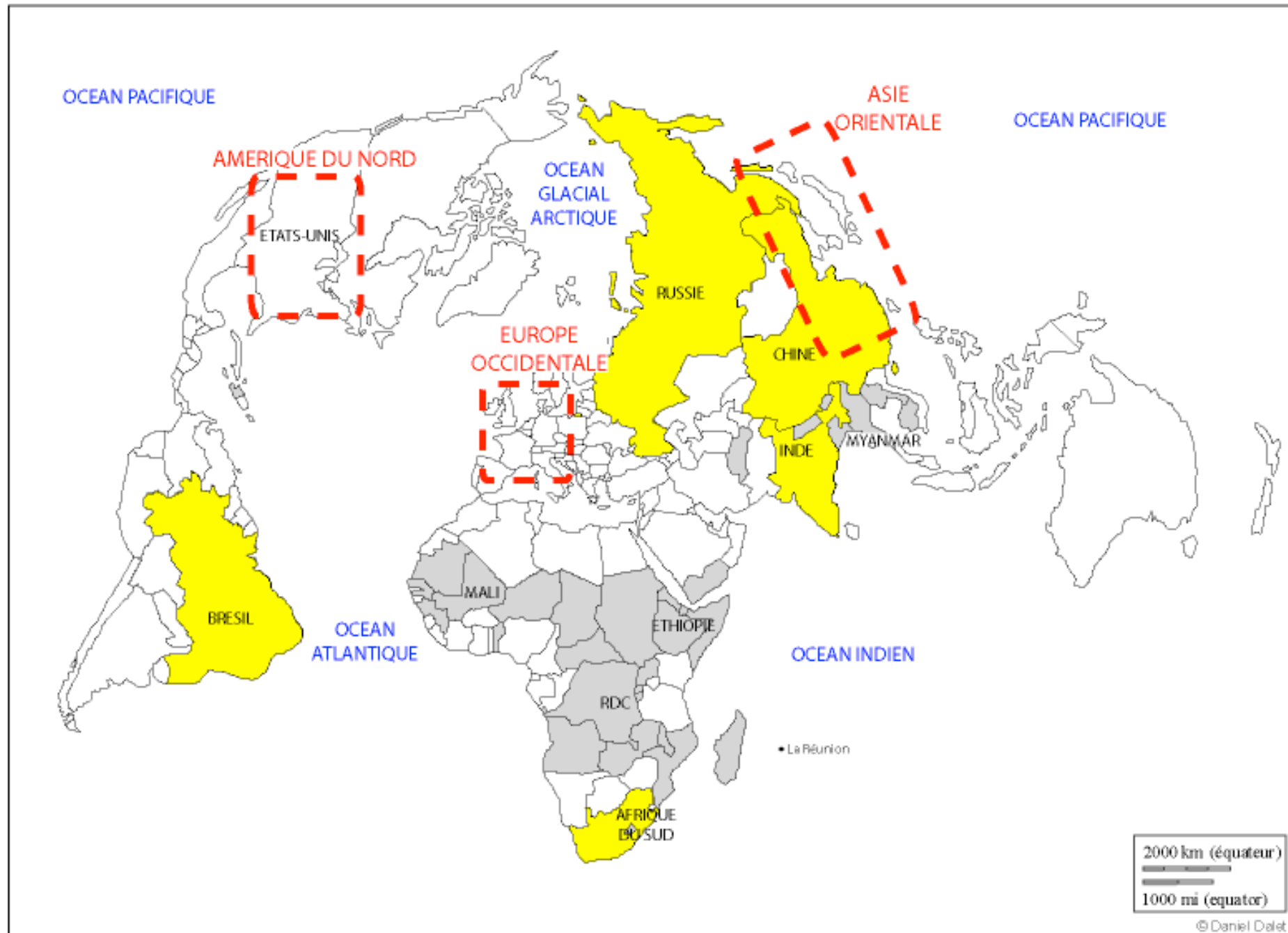
## Schéma de synthèse sur Madagascar, un exemple de PMA.



## Schéma de synthèse sur Madagascar, un exemple de PMA.



# Mise en perspective



# Mise en perspective

## Les territoires dans la mondialisation



Pôles de puissance (Triade)



Principales puissances émergentes (BRICS)



Quelques exemples de PMA