

EPREUVES COMMUNES ANTANANARIVO
BACCALAUREAT TECHNOLOGIQUE

SESSION NOVEMBRE 2013

HISTOIRE - GÉOGRAPHIE

DURÉE DE L'ÉPREUVE : 2 heures 30

Les calculatrices, téléphones cellulaires, smartphones et tablettes ne sont pas autorisés et doivent être éteints

La sortie définitive du candidat ne peut pas se faire avant la fin de la durée totale de l'épreuve

Les sacs et cartables doivent être déposés à l'avant de la salle d'examen

Ce sujet comporte 7 pages numérotées de **1/9 à 9/9**

Le candidat doit répondre à toutes les questions de la 1^{ère} partie.

10 points

Le candidat traitera au choix UN SEUL des quatre exercices de la 2^{nde} partie.

10 points

PREMIERE PARTIE

Questions d'histoire (6.5 points) :

1) Proposez deux événements précisément datés (mois et année) marquant la fin de la Guerre froide

(2 points)

2) Justifiez l'affirmation suivante : « L'éclatement du système soviétique a fait des États-Unis l'unique puissance mondiale du début du XXIème siècle. »

(2 points)

3) Donnez une définition du monde multipolaire.

(1.5 points)

4) Citez deux acteurs qui ont participé à l'affrontement bipolaire, entre l'Est et l'Ouest, entre 1947 et 1991.

(1 point)

Questions de géographie (5.5 points) :

- 1) Justifier l'affirmation suivante en donnant deux arguments : "La mondialisation économique est dominée par trois grands centres d'impulsion." 2 pts
- 2) Complétez la légende et indiquez sur le croquis les noms correspondants aux numéros.

1. Trois _____

principales puissances économiques des aires de puissance

- ① _____
- ② _____
- ③ _____

2. Trois mégalo-poles

- ④ mégalo-pole _____
- ⑤ mégalo-pole _____
- ⑥ archipel _____

3. Les pays émergents

BRICS

- ⑦ _____
- ⑧ _____
- ⑨ _____
- ⑩ _____



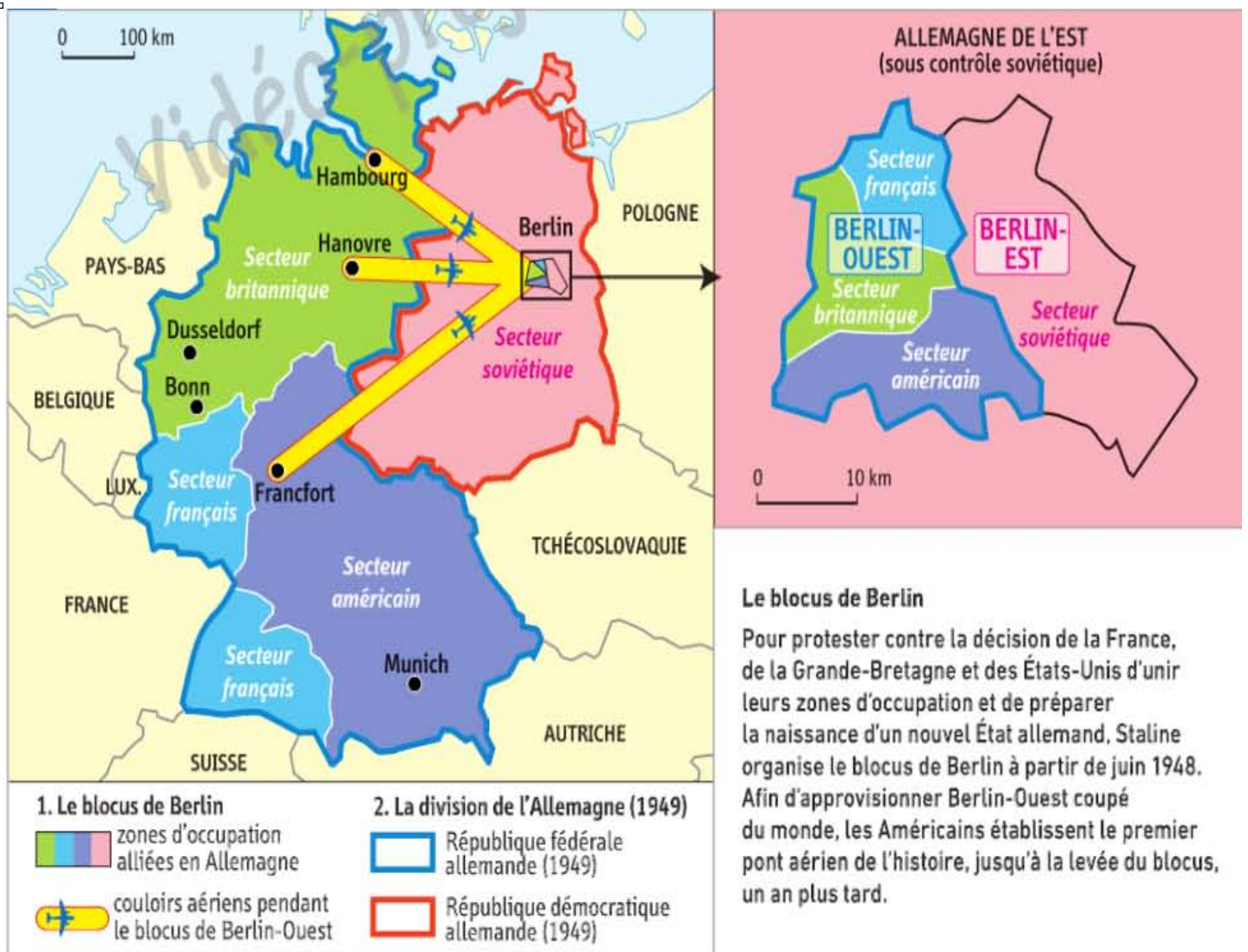
SECONDE PARTIE

Le candidat traitera au choix un seul des deux exercices.

Exercice n°1 / sujet d'étude : la guerre froide

Document 1 : la crise de Berlin dans une Allemagne divisée (juin 1948 –mai 1949)

Source : Hatier 2013, p 17



Document 2 : extraits des Constitutions de la RDA de 1949 et 1968

« **Art. 9.** L'économie de la RDA trouve son fondement dans la propriété socialiste des moyens de productions [...]

Art. 12. Les richesses du sous- sol, les mines, les centrales énergétiques, les barrages et les eaux, les richesses naturelles du socle continental, les banques et les sociétés d'assurance, les fermes d'Etat, les moyens de transport de la navigation aérienne et maritime, les installations des postes et télécommunications sont propriété du peuple. La propriété privée de ces biens est inadmissible ».

Constitution de la RDA de 1949

« **Art. 6.** La République démocratique allemande est à jamais, et de manière irrévocable, liée à l'Union des Républiques socialistes soviétiques. L'alliance étroite et fraternelle avec celle-ci garantit au peuple de la République démocratique allemande de nouveaux progrès sur la voie du socialisme et de la paix. La République démocratique allemande est partie intégrante et indissociable de la communauté des Etats socialistes ».

Constitution de la RDA de 1968

Document 3 : exposition automobile Porsche à Berlin –Ouest en 1950



Document 4 : le mur de Berlin, symbole de la division, en 1961

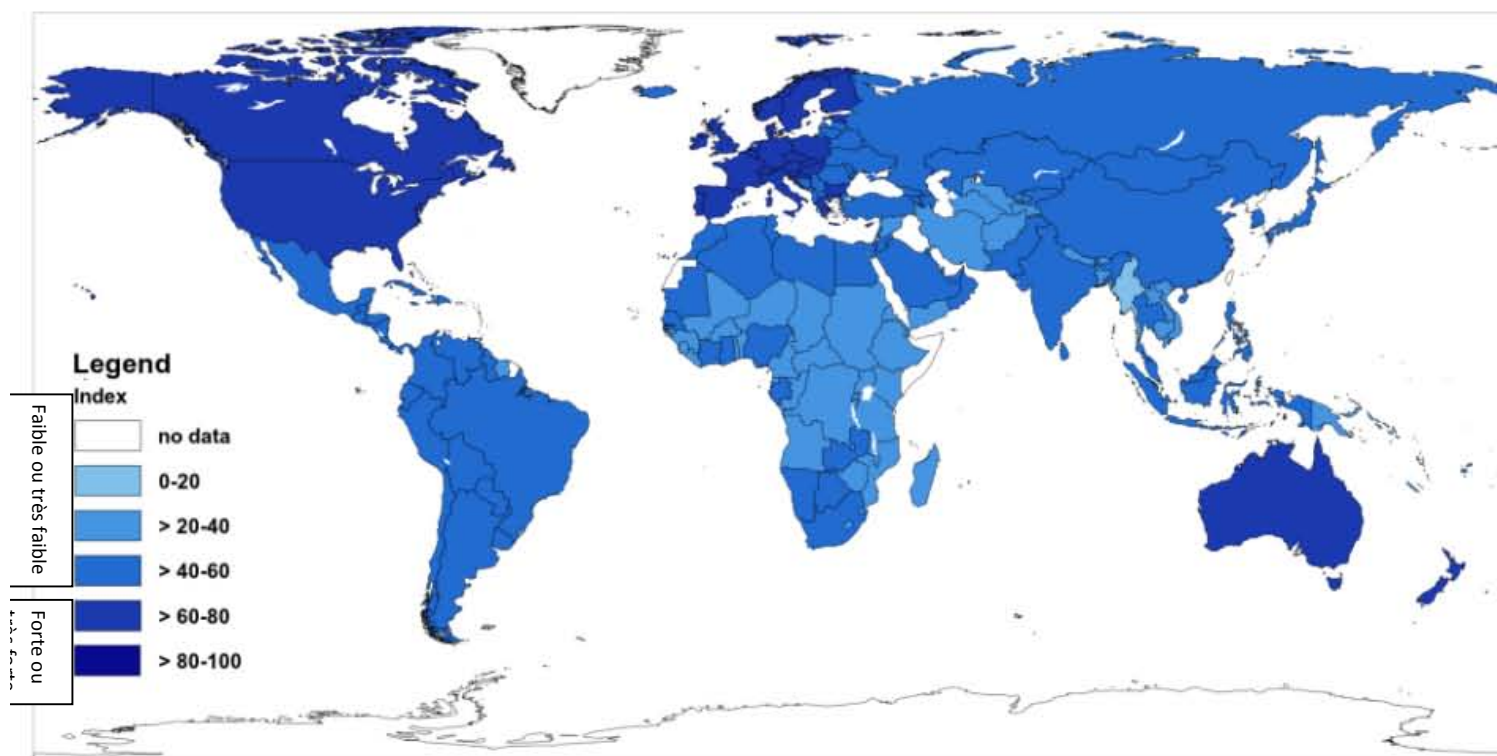


Questions (10 points) :

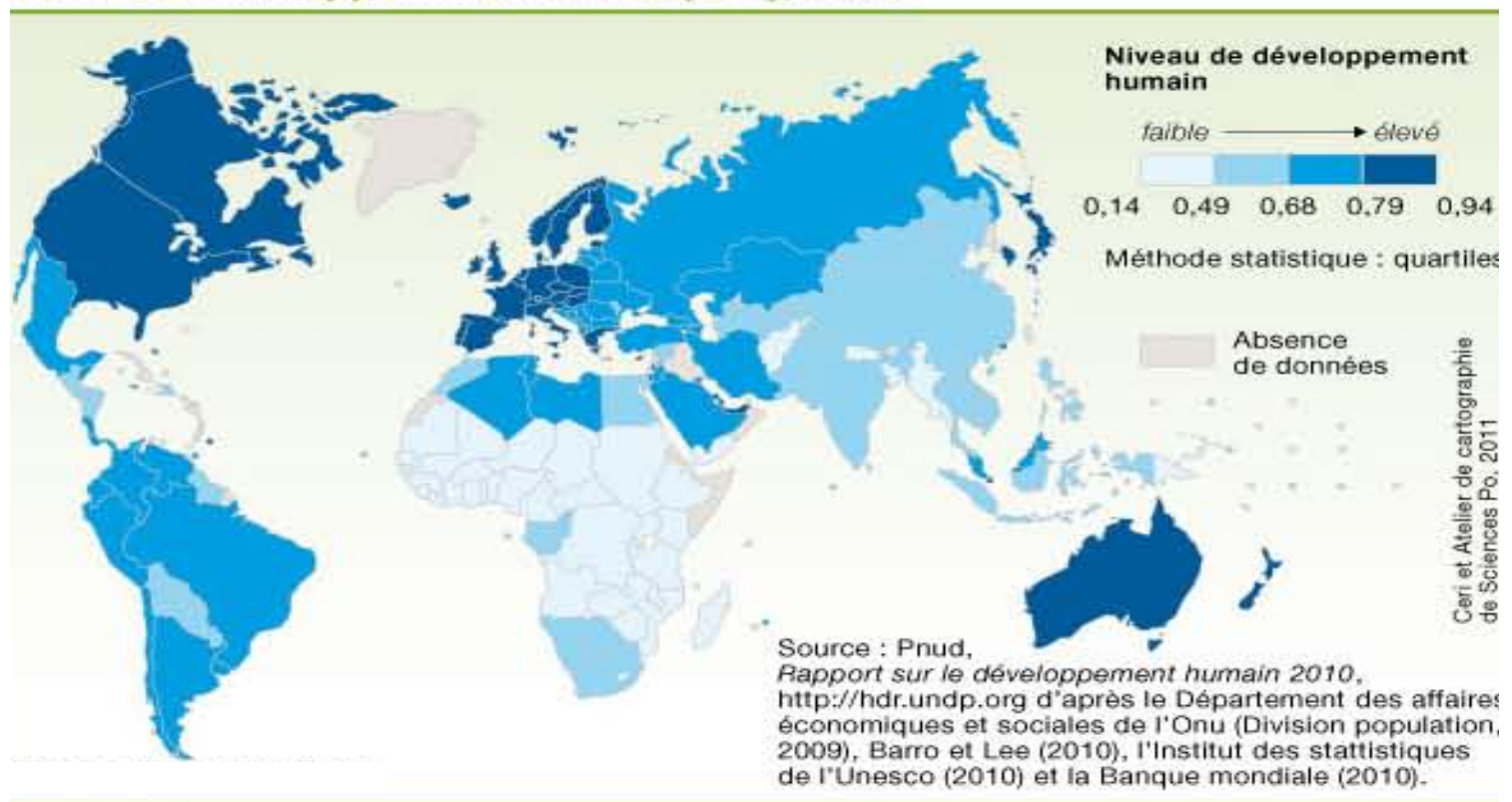
- 1) Quelle est la situation de l'Allemagne et de Berlin au lendemain de la Seconde Guerre mondiale ?
- 2) Pourquoi la ville de Berlin constitue-t-elle un enjeu important entre les Etats-Unis et l'Union soviétique ?
- 3) Montrez que la RFA et la RDA ont adopté des modèles opposés.
- 4) Pourquoi et par qui le mur de Berlin a-t-il été construit ? Que symbolise –t-il ?

Exercice n°2/ sujet d'étude :

Document 1 : le degré d'intégration des Etats dans la mondialisation (indice KOF), en 2008.



Document 2 : Carte de l'indicateur de Développement Humain en 2010



Document 3 : Mondialisation et inégal développement

« La mondialisation se construit sur un système mondialisé mais profondément dual, polarisé et hiérarchisé qui n'est en rien mondial, c'est-à-dire universel, tant sont exclus nombre d'Etats et de peuples de la définition de son architecture ou de ses finalités et du partage de ses richesses.

Dans de nombreux pays, l'absence de couverture sociale et de système de retraite, la défaillance des systèmes de santé et éducatifs et l'impossibilité d'accéder à l'eau potable, au tout -à- l'égoût ou à l'électricité demeurent des vecteurs d'un mal-développement (travail des enfants, consommation du patrimoine naturel et forestier...). Selon l'Agence internationale de l'énergie, 1.5 milliards d'habitants n'a toujours pas accès à l'électricité, en particulier en Afrique subsaharienne (590 millions) et en Asie du sud (614 millions). »

Laurent Carroué, « Mondialisation et système productif »,
In Annette Ciattoni et Yvette Verdet (dir.), *Géographie et géopolitique
De la mondialisation*, Hatier, 2011.

Questions (10 points) :

- 1) Le document 2 confirme –t- il « la forte hiérarchisation des territoires » évoqué dans le document 3 ?
- 2) Quels Etats, quelles parties du monde sont les plus intégrés dans la mondialisation ?
- 3) Citez des exemples de parties du monde ou d’Etats où le faible développement peut être relié à un faible degré d’intégration dans la mondialisation.
- 4) Quelles régions du monde se distinguent par un haut niveau de développement ?
- 5) Quelles informations révèlent les retards de développement de certaines régions ?